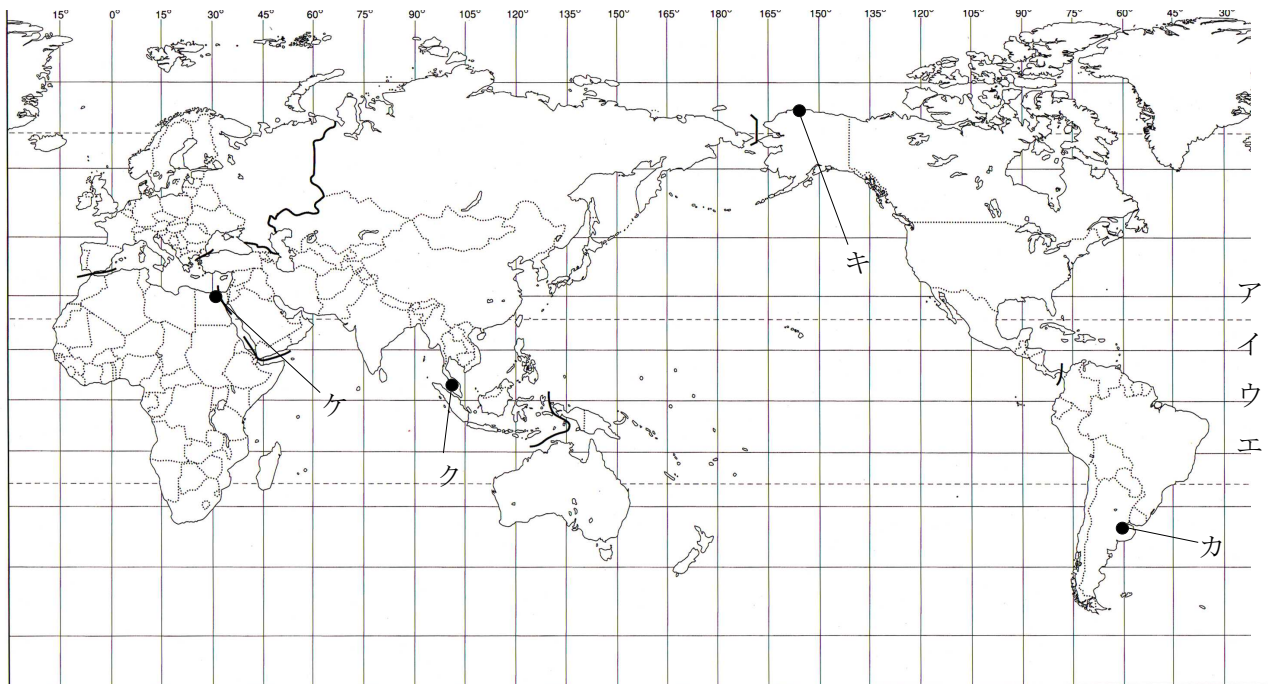


1 資料を見て、[1] ~ [5] の問いに答えなさい。

資料1 経線と緯線が直角に交わった地図



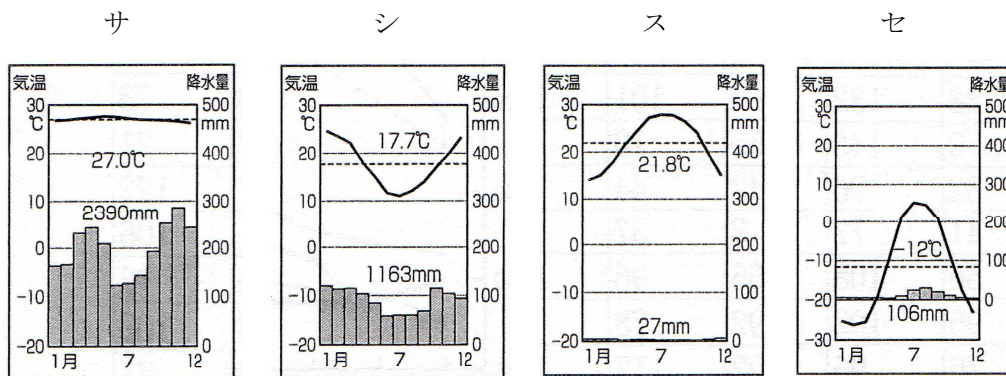
[1] 資料1の地図で、赤道を正しく表している線をア～エの中から1つ選び、その記号を書きなさい。

①

[2] 資料1の地図で、日本の時刻が10月10日午後10時のとき、10月10日午前9時である場所はどこか、カ～ケの中から1つ選び、その記号を書きなさい。

②

[3] 問[2]で選んだ場所を表す雨温図はどれか、サ～セの中から1つ選び、その記号を書きなさい。

③


- [4] 貿易・観光などで日本とも密接な関係をもつ国が多い資料2で示した地域には、1967年に経済発展と各国の相互援助を目的としてつくられた地域機構があります。この機構の名前を書きなさい。

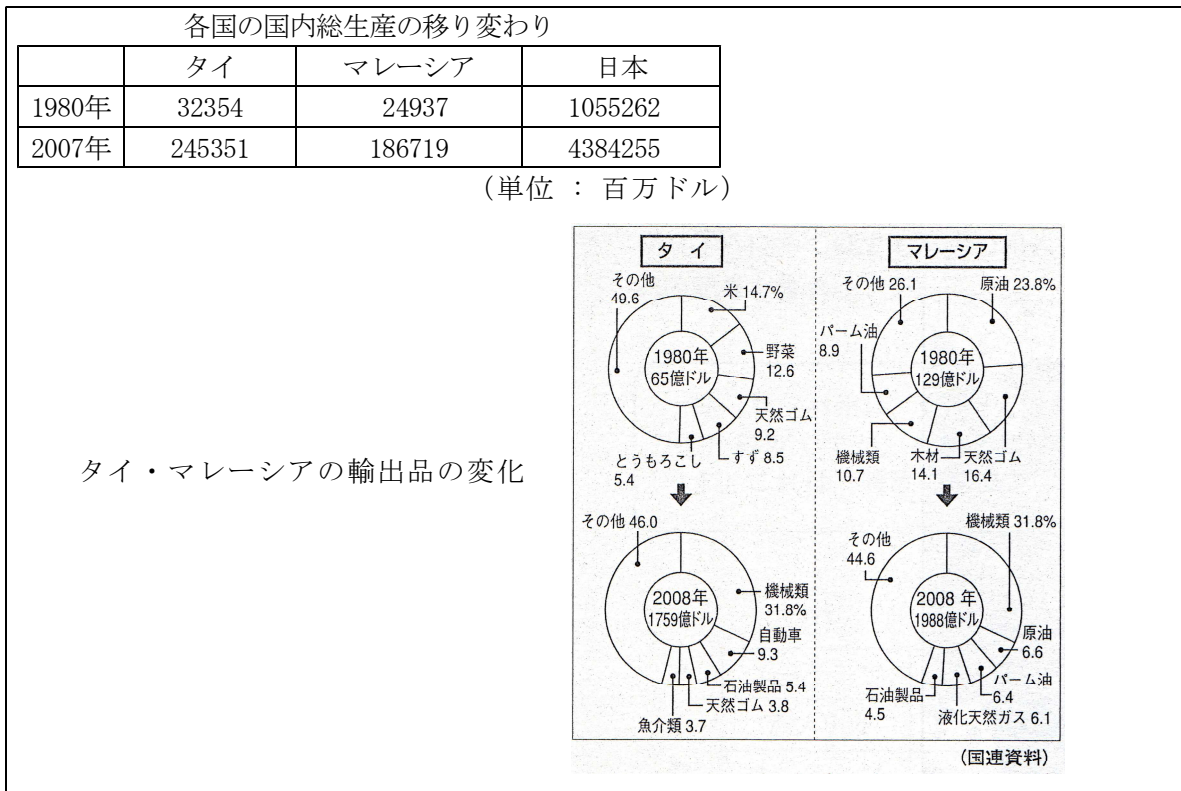
④

資料2 東南アジアの地図



- [5] 資料3はタイ・マレーシアの国内総生産の移り変わりと、輸出品の変化について表したものです。(国内総生産の移り変わりについては、日本の資料も含まれています。)資料をもとにして、タイ・マレーシアの主な輸出品目の特色ある変化とその背景について「タイやマレーシアは」に続いて書きなさい。

資料3



タイやマレーシアは

⑤

- 2** 資料4の年表は、日本の主なできごとと文化について表した年表です。また、写真1は元寇の様子、写真2は慈照寺銀閣です。これらの年表と写真を見て、〔1〕〔2〕の問いに答えなさい。

日本の主なできごとと文化

資料4	西暦(年)	主なできごと	文化
	710	平城京に都が移る	①天平文化
	794	平安京に都が移る	
	935	平将門の乱が起こる	②国風文化
	1016	藤原道長が摂政になる	
	1192	源頼朝が征夷大將軍になる	③鎌倉時代の文化
	1274	元寇(文永の役)	
	1281	元寇(弘安の役)	
	1338	足利尊氏が征夷大將軍になる	④室町時代の文化
	1467	応仁の乱が起こる	
	1590	豊臣秀吉が全国を統一する	⑤桃山文化
	1603	徳川家康が征夷大將軍になる	
	1716	享保の改革が行われる	⑥元禄文化

写真1 元軍と戦う武士

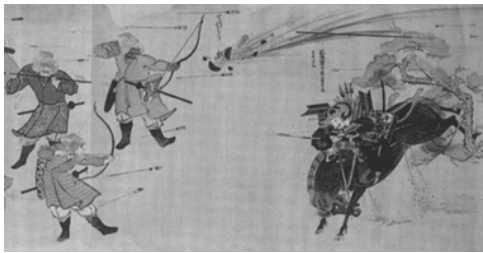


写真2 慈照寺銀閣



- 〔1〕 写真1の時期の政治の様子について正しく述べた文を、次のア～エから1つ選び記号で答えなさい。

- ア 関ヶ原の戦いの後、江戸幕府が開かれた。その後、大阪城の豊臣氏が滅ぼされた。
- イ 人口が増加して口分田が不足したため、朝廷は開墾を呼びかけた。
- ウ 保元の乱、平治の乱で勝利した平清盛が、太政大臣になった。
- エ 北条時宗が執権になって幕府の権力をにぎり、政治を行っていた。

⑥

- 〔2〕 写真2が建てられた時期の文化を、資料4の文化の欄の①～⑥から適当な番号を選び答えなさい。また、この文化について正しく説明した文を、次のア～エから1つ選び記号で答えなさい。(完答)

- ア 武家文化と公家文化が混じり合った。水墨画が雪舟によって大成された。
- イ 文化の国風化が進み、かな文字を用いた「源氏物語」や「枕草子」が生まれた。
- ウ 武士の気風を反映した文化で、彫刻では運慶らが写実的な作品を残した。
- エ 上方を中心に発展した町人の文化で、文学では井原西鶴などが活躍した。

(完答)

番号	記号
----	----

⑦

3 江戸幕府の政治について述べた次の文や資料を見て、〔1〕～〔3〕の問いに答えなさい。

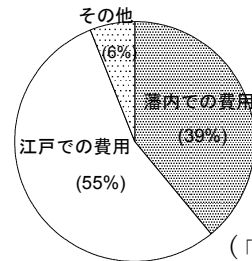
江戸幕府は諸大名を、親藩・譜代・外様大名に区別し、たくみに配置した。また、(A) を定めて築城、結婚、(B) の制度を整え、大名の統制をきびしくした。(B) では、大名は妻子を江戸におき、1年ごとに江戸と領国に住むこととされた。

資料 5

- 一 大名は、毎年4月に江戸へ参勤すること。
- 一 新しい城を作ってはいけない。石垣などが壊れたときは奉行所の指示を受けること。
- 一 大名は、かつてに結婚してはいけない。
- 一 服装は、分相応のものを着なければならない。
- 一 500石積み以上の船をつくってはならない。

(1635年, 将軍家光のものの一部要約)

資料 6 加賀藩の支出の内訳



(「加賀藩社会経済史研究」)

〔1〕 資料 5 は、文中の (A) の内容を要約したものです。(A) にあてはまる語句を次のア～エから 1 つ選び記号で答えなさい。

- ア 大日本帝国憲法 イ 御成敗式目 ウ 武家諸法度 エ 大宝律令

⑧

〔2〕 なぜ幕府は大名に (B) の制度を義務づけたのか、資料 6 をもとにして、その理由を答えなさい。

⑨

〔3〕 資料 7 は江戸時代の改革について表にまとめている途中のものです。表の空いている部分に関して、適切に述べている文を次のア～エから 1 つ選んで記号で答えなさい。

江戸時代の改革

	中心人物	改革の内容	ききん
資料 7	享保の改革		享保のききん
	寛政の改革		天明のききん
	天保の改革	水野忠邦	天保のききん

- ア 寛政の改革では、松平定信が長崎貿易での金銀を輸入するため、銅や海産物の輸出を奨励した。
- イ 享保の改革では、徳川吉宗が公事方御定書という、裁判の基準となる法令集をつくらせた。
- ウ 寛政の改革では、徳川家光が旗本や御家人の借金を帳消しにした。政治のひきしめをはかり、出版物の内容にきびしい統制を加えた。
- エ 享保の改革では、田沼意次が物価を下げるために株仲間を解散させた。

⑩